

Prénom :

Date :

LES NOMBRES DE 0 À 500 (2)

1- Écris en lettres.

241

190

402

372

2- Lis et réponds à la devinette.

Je suis un nombre entre 230 et 240. Le chiffre de mes unités est le même que celui de mes centaines.

Qui suis-je ?

3- Utilise les étiquettes pour **former** le plus de nombres possibles contenant le mot « cent ».

cent vingt-quatre

.....

.....

.....

.....

.....

.....

cent(s)

vingt(s)

quatre

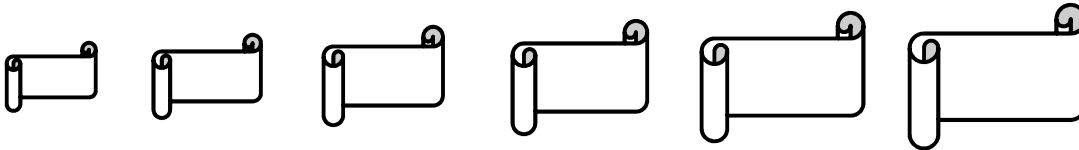
cinquante

.....

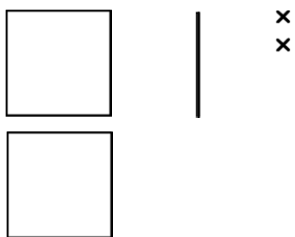
.....

.....

4- Range les nombres du plus petit au plus grand.



5- Complète les dessins pour avoir la bonne quantité.



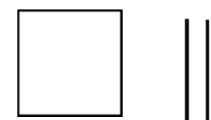
425



308



194



270