

Calcule le parcours du lièvre et de la tortue.

.....+.....+.....=.....
Le lièvre va parcourir cm

.....+.....+.....+.....=.....
La tortue va parcourir cm

Calcule le parcours de la poule et du canard pour faire le tour de la ferme.

..... =

..... =

..... cm

..... cm

Mercredi 3 juillet 2024

1-NOMBRES : Devinettes
Jeu nombres à 2 chiffres.

Je suis un nombre à 2 chiffres.

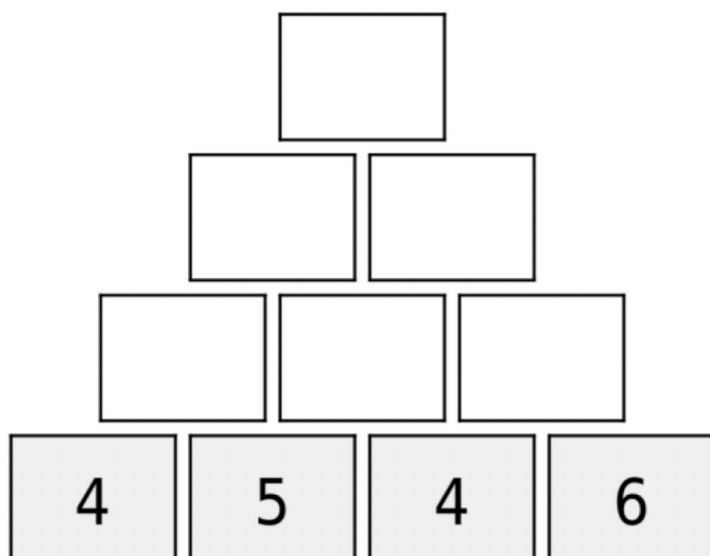
Mon chiffre des dizaines est 5.

Si tu additionnes mon chiffre des dizaines
et mon chiffre des unités, tu obtiens 9.

QUI SUIS-JE ?


2-CALCUL : PYRAMIDES ADDITIVES

Fonctionnement de la pyramide additive : Le nombre d'une case de la pyramide est toujours égal à la somme des deux nombres écrits dans les deux cases situées juste en dessous.



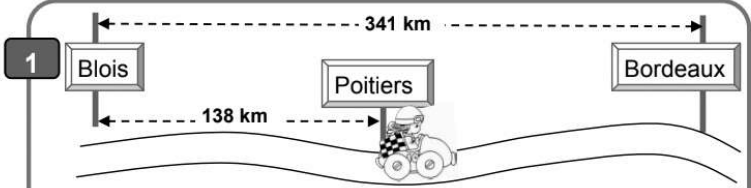
3-RESOLUTION DE PROBLEME

Je cherche des informations sur un dessin



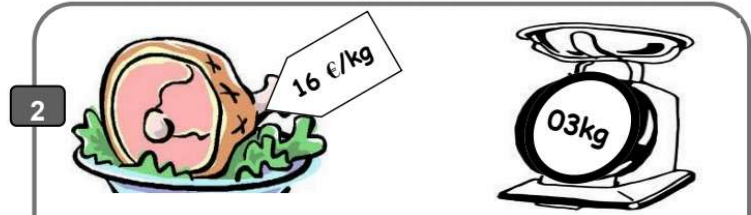
La maîtresse de maternelle a acheté pour la classe un nounours, 2 poupées et 3 voitures.

Combien a-t-elle dépensé ?



Léa part de Blois pour aller à Bordeaux, elle fait une pause à Poitiers.

Combien de kilomètres lui reste-t-il à parcourir ?



Maman a acheté un gros gigot, le boucher pèse le gigot.

Combien va-t-elle payer ?

Jeudi 4 juillet 2024

1-NOMBRES : Devinettes
Jeu nombres à 2 chiffres.

¹
▀

Je suis un nombre à 2 chiffres,
compris entre 2 d et 3 d.

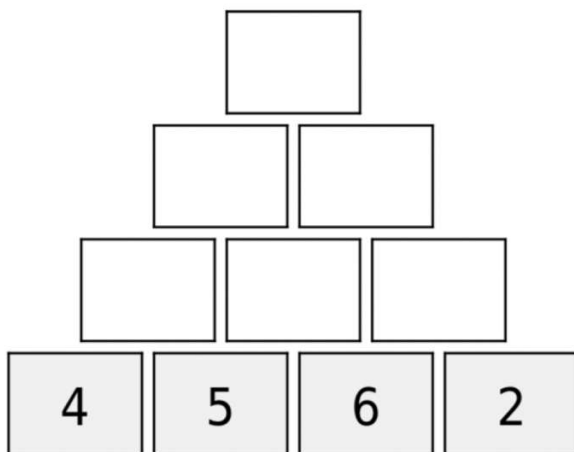
Mon chiffre des unités est le même
de mon chiffre des dizaines.

QUI SUIS-JE ?

2-CALCUL : PYRAMIDES ADDITIVES

Fonctionnement de la pyramide additive : Le nombre d'une case de la pyramide est toujours égal à la somme des deux nombres écrits dans les deux cases situées juste en dessous.




Niveau 1 : total ≤ 20 , 4 étages




3-Résolution de problème



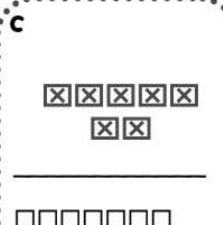
Je cherche le dessin qui va avec la situation

1 Mamie a ramassé 18 œufs ce matin et doit les ranger dans des boîtes de 6 œufs .
Combien de boîtes lui faut-il ?

A  **B**  **C** 



2 Dans le parking de l'école, 7 voitures sont déjà garées, il reste 13 places libres.
Combien de places y a-t-il au total sur ce parking ?

A  **B**  **C** 

Vendredi 21 juin 2024

1-NOMBRES : Devinettes
Jeu nombres à 2 chiffres.

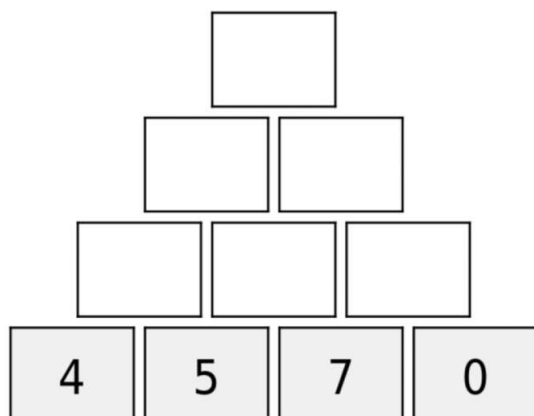
Je suis un nombre à 2 chiffres,
situé entre 4 d et 5 d.
Mon chiffre des unités est la moitié
de mon chiffre des dizaines.

QUI SUIS-JE ?

2-CALCUL : PYRAMIDES ADDITIVES

Fonctionnement de la pyramide additive : Le nombre d'une case de la pyramide est toujours égal à la somme des deux nombres écrits dans les deux cases situées juste en dessous.

Niveau 1 : total ≤ 20 , 4 étages



3-RESOLUTION DE PROBLEMES

Je cherche le dessin qui va avec la situation

1

Marion mange 5 chocolats. Dans la boîte il y avait 24 chocolats .

Combien en a-t-elle mangés ?

A

B

C

Matéo range 5 images sur chaque page de son album, Il remplit 3 pages et il lui reste 2 images.

2

Combien d'images possède-t-il ?

A

B

C